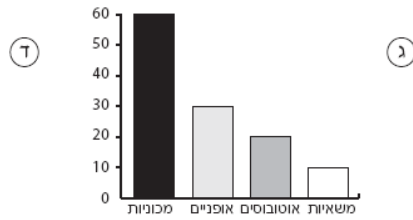
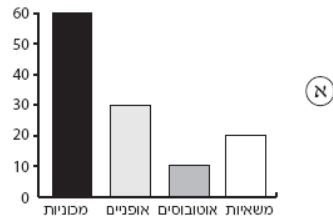
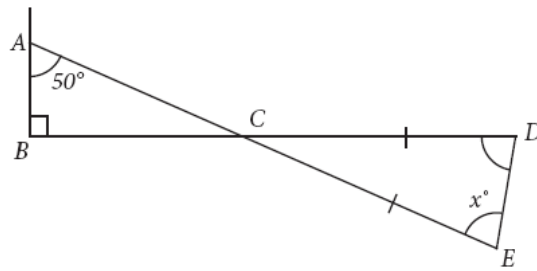


ארבעה תלמידים צפו במשך שעה בתנועת כלי-הרכב שעברו ליד בית-ספרם.  
הטבלה הבאה מציגה את תוצאות התצפית:

מספר	סוג כלי-הרכב
60	מכוניות
30	אופניים
10	אוטובוסים
20	משאיות

כל אחד מהתלמידים שרטט תרשים להצגת התוצאות. איזה מבין התרשימים מציג את התוצאות בצורה נכונה?

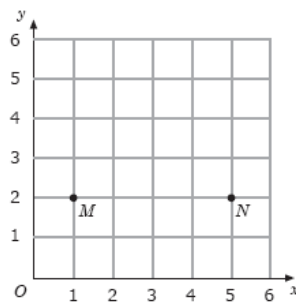




בתרשים זה,  $CD = CE$ .

מה ערכו של  $x$ ?

- א) 40  
 ב) 50  
 ג) 60  
 ד) 70



בציור שלמעלה נתונות שתי נקודות  $M$  ו- $N$ . יוחנן מחפש נקודה  $P$ , כך ש  $MNP$  יהיה משולש שווה שוקיים. מי מהנקודות הבאות יכולה להיות הנקודה  $P$ ?

- א) (3,5)  
 ב) (3,2)  
 ג) (1,5)  
 ד) (5,1)