

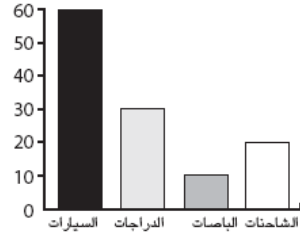
راقب أربعة تلاميذ حركة السير أمام مدرستهم خلال مدة ساعة.
يشير الجدول إلى ما شاهدوه:

نوع وسيلة النقل	العدد
السيارات	60
الدراجات	30
الباصات	10
الشاحنات	20

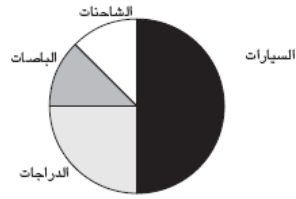
وضع كل تلميذ رسماً بيانياً لإظهار نتائجه. ما هو الرسم الذي يبين النتائج بشكل صحيح؟



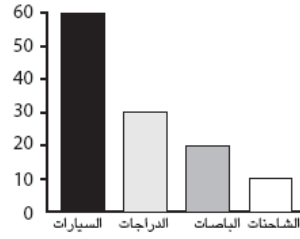
ب



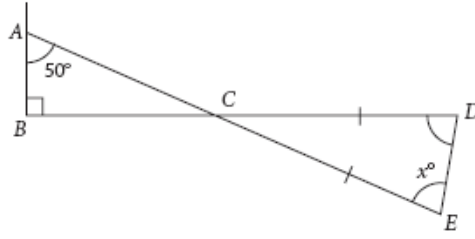
أ



د



ج



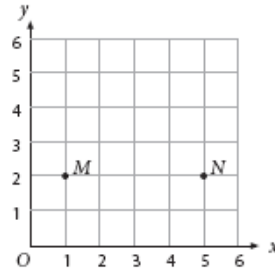
في الرسم التخطيطي، $CD = CE$.

ما هي قيمة x ؟

- ١ 40
 ب 50
 ج 60
 د 70

25

M040036



M و N نقطتان مبينتان في الشكل اعلاه. يبحث احمد عن النقطة P بحيث ان MNP مثلث متساوي الساقين. أي من النقط التالية يمكن أن تمثل النقطة P ؟

- ١ (3,5)
 ب (3,2)
 ج (1,5)
 د (5,1)

53

M032294